

ÔN TẬP VỀ HÌNH HỌC VÀ GIẢI TOÁN

Bài tập tự luyện

Giáo viên: Cao Thị Dung

Bài 1. Hùng có 16 que tính, Minh có nhiều hơn Hùng 7 que tính nhưng ít hơn Hải 3 que tính. Hỏi cả ba bạn có bao nhiêu que tính ?

.....

.....

.....

.....

.....

.....

Bài 2. Khối lớp ba có 185 bạn nam và 192 bạn nữ. Hỏi:

- Khối lớp ba có tất cả bao nhiêu bạn?
- Số bạn nữ nhiều hơn số bạn nam bao nhiêu bạn?

.....

.....

.....

.....

.....

.....

Bài 3. Cuộn dây thứ nhất dài 90m, cuộn dây thứ hai dài 78m. Hỏi cuộn dây thứ nhất dài hơn cuộn dây thứ hai bao nhiêu mét?

.....

.....

.....

Bài 4. Bao gạo cân nặng 482kg, bao ngô nặng hơn bao gạo 22kg. Hỏi bao ngô nặng bao nhiêu ki – lô – gam?


.....

.....
.....
Bài 5. Khối lớp một góp được 127kg giấy vụn, khối lớp 2 góp được 452kg giấy vụn. Hỏi khối lớp hai góp được nhiều hơn khối lớp một bao nhiêu ki – lô – gam giấy vụn?

.....
.....
Bài 6. Vẽ thêm 1 nét vào hình dưới đây để được 3 hình tam giác và 3 hình tứ giác:



Bài 7. Hình sau có bao nhiêu hình tam giác?

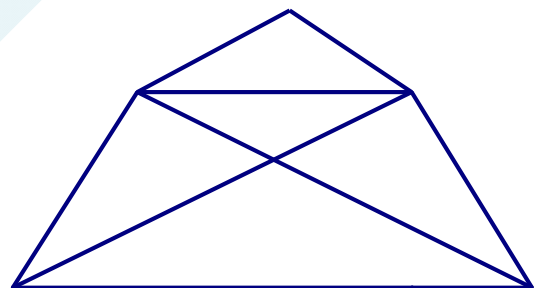


.....
Bài 8. Viết số thích hợp vào chỗ chấm:

Trong hình bên:

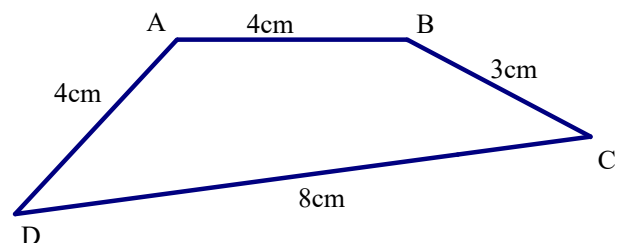
Có hình tam giác.

Có hình tứ giác.



Bài 9. Cho hình tứ giác ABCD như sau.

Tính chu vi hình tứ giác ABCD.



Bài 10. Vẽ đoạn thẳng AB dài 1 cm.

Vẽ đoạn thẳng CD dài gấp 7 lần đoạn thẳng AB.

.....

.....

.....

.....

.....

Giáo viên: Cao Thị Dung

Nguồn :  **Hocmai**